











Čtvrtek 13. 5. 2021

<p>1. TVOŘENÍ – OMALOVÁNKA</p> 	<p>Krtek a žába</p> 
<p>2. POHYBOVÁ CHVILKA</p> 	<p>Pohybové vyjádření říkadla – Žába skáče po blátě. Žába skáče po blátě, koupíme ji na gatě. Na jaké, na jaké? Na zelené, strakaté.</p> 
<p>3. MATEMATICKÉ PŘEDSTAVY</p> 	<p>Pracovní list</p>
<p>4. MONTESSORI</p> 	<p>Vývoj žáby – správně seřaď obrázky jednotlivých vývojových fází žáby</p> 
<p>5. ŘÍKADLO</p> 	<p>Hastrmane, tatrmane Hastrmane, tatrmane, dej nám kůži na buben. Budeme ti bubnovati, až polezeš z vody ven.</p> 

Krtek a žába



Žába skáče po blátě

Žába skáče po blátě,
(poskoky v podporu dřepmo vpřed)

koupíme ji na gatě.






Na jaké, na jaké?
(stoj rozkročmo, ruce v bok, obraty trupem doprava, doleva)

Na zelené, strakaté.
(tleskání do dlaní ve vzpažení)



Pracovní list – matematické představy

Spoj obrázky s puntíky podle vzoru.

				
---	---	---	--	---


• • •	• •	• •	• • •	•
-------	-----	-----	-------	---

A line connects the first frog in the top row to the first group of three dots in the bottom row.

Vývoj žáby

Vystřihni si jednotlivé obrázky a seřaď správně do kolonky, jak probíhá vývoj žáby. Na další stránce najdeš správné řešení.

--	--	--	--	--	--



Správné řešení:

					
Vajíčka	Pulec	Pulec se zadními končetinami	Pulec se zadními i předními končetinami	Žába s ocasem	Žába

Hastrmane, tatrmane

Hastrmane, tatrmane,
dej nám kůži na buben.
Budeme ti bubnovati,
až polezeš z vody ven.



Zdroje:

Vývoj Žáby: <https://eschovka.cz/product/?pid=1310>

Hastrmane, tatrmane: <https://s3.amazonaws.com/gs-geo-images/a6598b70-e8ec-4676-946f-9fddf100f5ff.jpg>